

$10 \times 5$

$9 \times 5$

$84 : 12$

$45 : 5$

$5 \times 2$

# LABIRINTURI MATEMATICE

Înmulțiri  
și împărțiri

Angelika Scudamore

Traducere din limba engleză  
de Theodora-Eliza Văcărescu

CORINT BOOKS

# Cum folosești această carte



Bine ai venit în lumea fascinantă a labirinturilor  
cu înmulțiri și împărțiri!

Această carte de activități este plină de imagini captivante care  
te ajută să înveți cele mai importante lucruri despre înmulțire  
și împărțire, într-o manieră plăcută, ușoară și rapidă.

Găsește punctul de START  
al fiecărui labirint și citește  
instrucțiunile care te vor  
ajuta să-l rezolvi.

Rezolvă operațiile și  
apoi alege calea corectă  
pentru a ajunge la capătul  
labirintului.

Împărțire la 8  
Rezolvă problemele și urmează  
drumul cu răspunsuri corecte pentru  
a-ți conduce pe cumpărători la casă.

Start

Indiciu  
Nu uita că  
împărțirea  
este operația  
inversă  
înmulțirii.

CASĂ

Sosire

Unele jocuri au un *Indiciu*  
care te ajută să găsești  
soluția.

Dacă nu știi pe unde s-o  
iei, te poți uita la secțiunea  
„Răspunsuri” de la finalul cărții.



# Adunarea repetată, primul pas spre înmulțire

Condu-o pe micuța zână la casa ei în formă de ciupercuță. Urmează drumul cu numere duble. Ai mare grijă să nu te întâlnești cu șireții gnomi!



Start

$2+4$

$3+3$

$3+4$

$8+8$

$6+6$

$4+4$

$5+5$

$9+8$

## Indiciu

Dublul unui număr se află adunând numărul respectiv cu el însuși.



Sosire

$17+7$



$16+6$

$9+9$



$5+6$

$1+1$



$2+2$



$7+7$



$8+9$



$10+12$



$3+5$



$12+12$



# Multiplii lui 2

Ajută-l pe micuțul astronaut să ajungă înapoi la racheta lui. Urmează drumul cu numere care sunt multipli de 2.



Start

2

16

7

9

8

12




15

23

6

*Indiciu*

Multiplul lui 2 se obține prin înmulțirea unui număr cu 2.





20

17

1

5

10

22

4

3

18

6

25

13

14

Sosire

7

# Înmulțiri cu 2

Ajut-o pe fetiță să-și găsească prietena pe terenul de skateboard. Află rezultatele operațiilor și urmează drumul cu răspunsuri corecte.



Start

$2 \times 4$

14

$2 \times 6$

14

10

12

$2 \times 5$

12

24

$2 \times 12$

22

8

8

**Indiciu**

$2 \times 3 = 3 + 3$   
(de două ori 3)

$2 \times 4 = 4 + 4$   
(de două ori 4)



$2 \times 2$

3

4

$2 \times 7$

18

$2 \times 10$

2

16

21

14

$2 \times 8$

20

2

18

$2 \times 1$

1

$2 \times 9$

19

Sosire



# Împărțiri la 2

Băiețelul este tare grăbit. Trebuie să ajungă la cinematograful înainte să înceapă filmul. Rezolvă operațiile și urmează drumul cu răspunsuri corecte.



Start

$4:2$

2

$12:2$

10



12

$10:2$

5



8

$4:2$

6



2

4



$22:2$

11

12

14



6

$24:2$



8

$16:2$



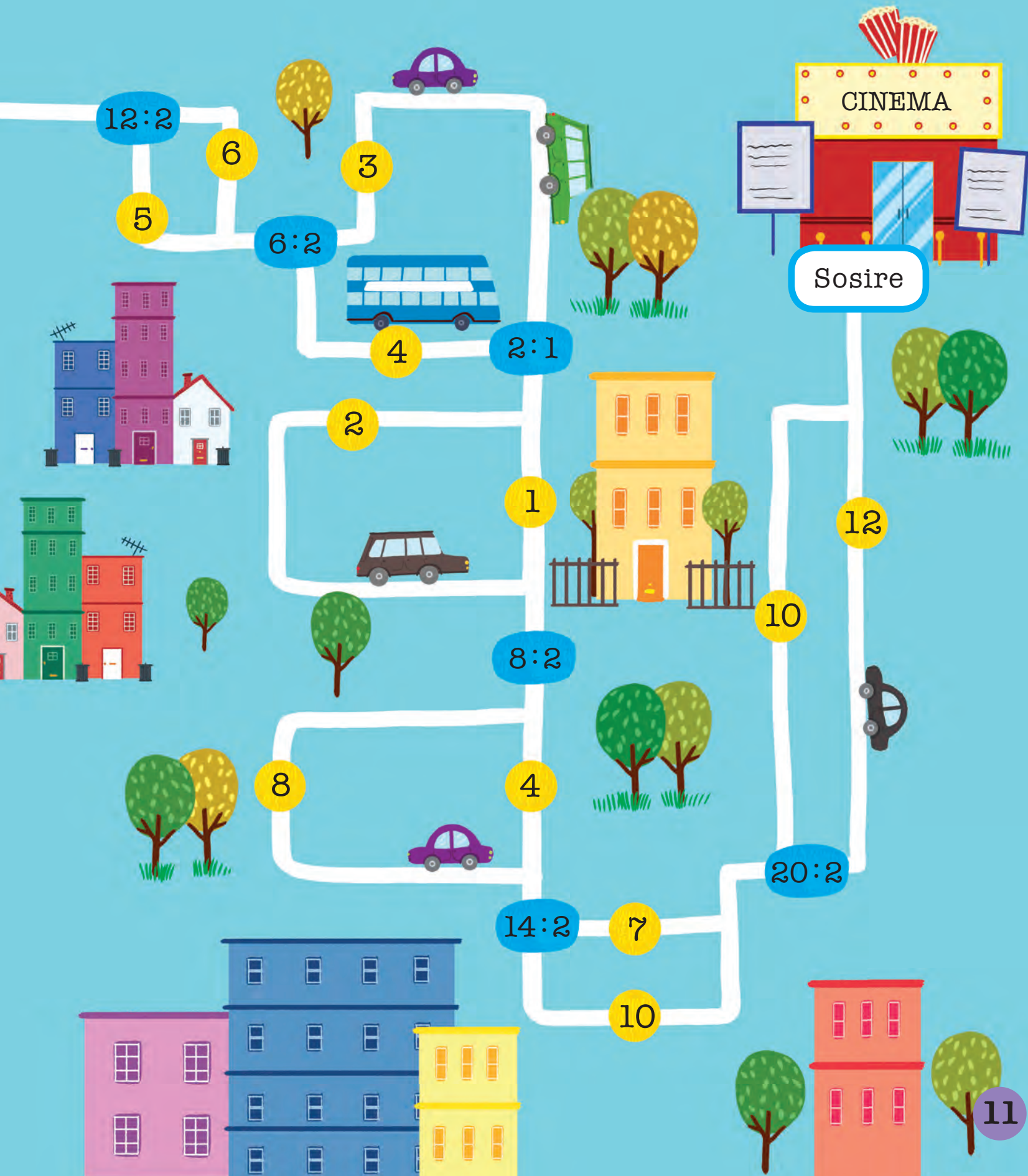
6

## Indiciu

Împărțirea la 2 este același lucru cu înjumătățirea numărului dat.

10





CINEMA

Sosire

11

# Multiplii lui 10

Ajută-l pe micul cavaler să ajungă la căluțul său. Urmează numerele care sunt multipli de 10.



Start



**Indiciu**  
Multiplii lui 10  
au cifra unităților  
0 (adică se  
termină în 0).



75

32

80

81

85

10

65

50

20

110

120

Sosire

13

# Înmulțiri cu 10

Băiețelul de-abia așteaptă să schieze. Ajută-l să găsească drumul până la telesaun, rezolvând operațiile și urmând calea cu răspunsuri corecte.



$10 \times 4$

Start

44

100

40

10

$10 \times 10$

$10 \times 9$

50

19

90

55

$10 \times 5$

**Indiciu**  
Multiplii lui 10  
au cifra unităților  
0 (adică se  
termină în 0).



100

10x1

30

102

10x12

10

10x3

120

33

110

Sosire

10x11

111

# Împărțiri la 10

Elefântelului îi este tare sete. Îl poți ajuta să găsească drumul spre cascadă, rezolvând operațiile de împărțire și urmând calea cu răspunsuri corecte.



Start

$40 : 10$

10

5

$50 : 10$

500

$70 : 10$

4

70

20

$120 : 10$

12

3

$30 : 10$

6

16

# Indiciu

Reține că  
împărțirea este  
operația inversă  
înmulțirii:  
 $7 \times 10 = 70$   
 $70 : 10 = 7$



7

8

$80 : 10$

$60 : 10$

60

Sosire

88

1

2

6

10

$20 : 10$

$100 : 10$

22

90

$90 : 10$

9

17





# Multiplii lui 5

Ajută cămila să traverseze deșertul și să ajungă la oază.  
Urmează numerele care sunt multipli de 5.



Start

20

17

58

65

30

23

45

14

Indiciu

Multiplii lui 5 au cifra unităților 0 sau 5 (adică se termină în 0 sau în 5).



59

10

5

Sosire

25

15

50

36

28

35

19

54

19

# Înmulțiri cu 5

Călăuzește-i pe cei trei copii spre ieșirea din labirint. Rezolvă operațiile și ia-o pe drumul cu răspunsuri corecte.



Start

$5 \times 5$

$55$

$5 \times 4$

$20$

$5 \times 1$

$5$

$25$

$35$

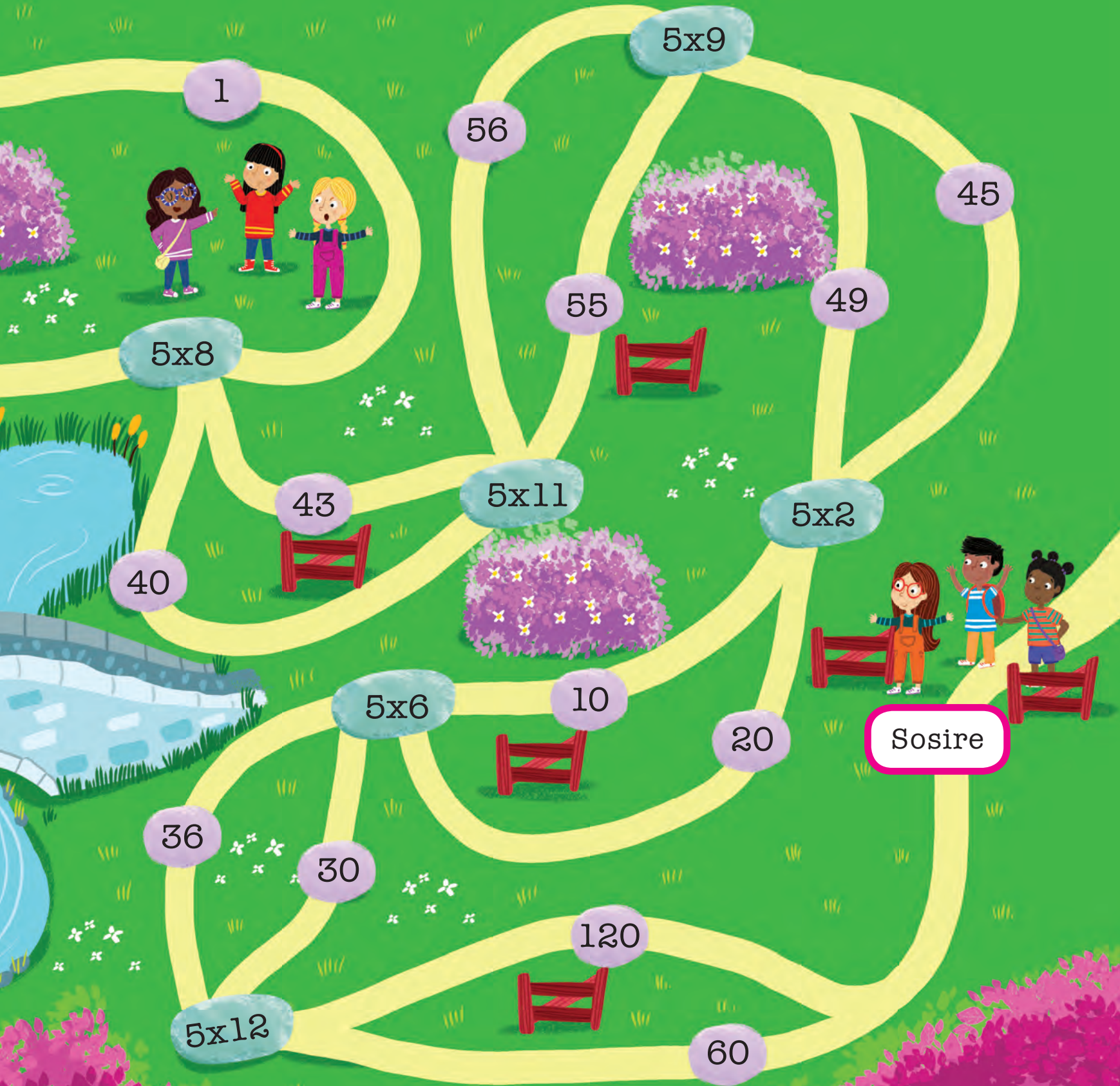
$25$

$30$

$5 \times 7$

*Indiciu*

Încearcă să  
numeri din  
5 în 5.



1

5x9

56

45

5x8

55

49

43

5x11

5x2

40



5x6

10

Sosire

36

30

20

5x12

120

60